
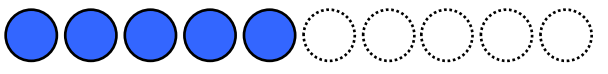







**1** あといくつで6になりますか。いろをぬってこたえましょう。(3点×5)


(1)   にんの  
のれます。  
(1点)

(2)   
 と

(3)   
 と





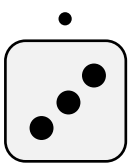
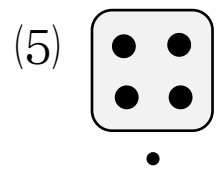
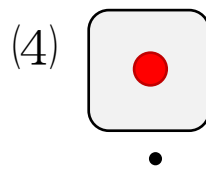
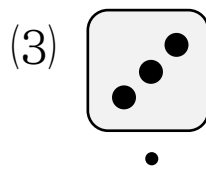
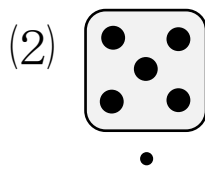
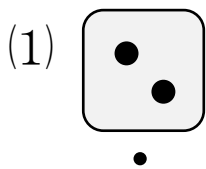
(4)   
 と

(5)   
 と

(6)   
 と

**2** 6になるように、うえとしたのさいころを—でおすびましょう。

(3点×5)



**3**  にあてはまるかずをかきましょう。

(3点×5)

(1) 1と で6

(2) 3と で6

(3) 4と で6

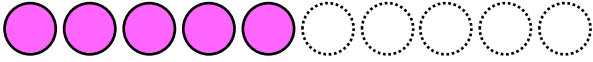

(4) 2と で6

(5) 5と で6













**4** あと いくつで 7に なりますか。いろを ぬって こたえましょう。(3点×6)

(1)  (2)   
 と                        と

(3)  (4)   
 と                        と

(5)  (6)   
 と                        と

**5** 7に なるように, うえと したの さいころを —で おすびましょう。(3点×6)

(1)  (2)  (3)  (4)  (5)  (6)   
     

**6**  に あてはまる かずを かきましょう。(3点×6)

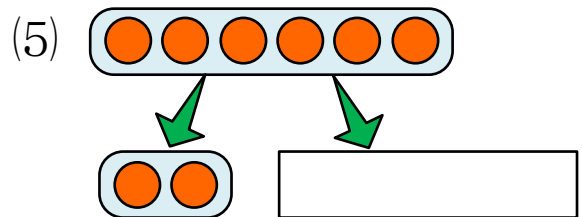
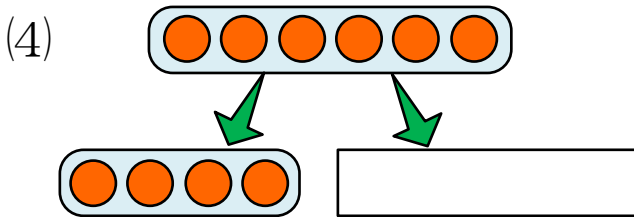
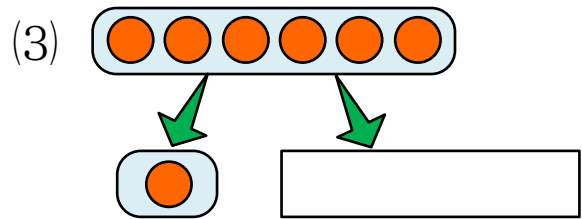
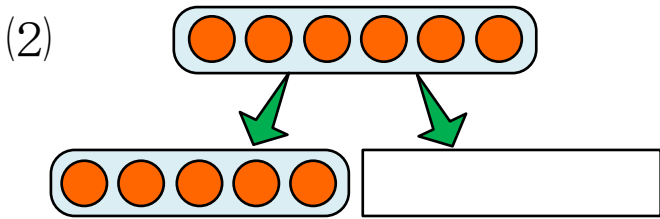
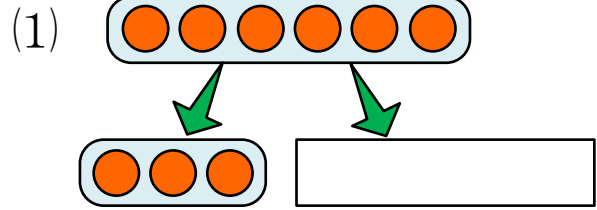

- (1) 3とで 7                      (2) 1とで 7  
 (3) 5とで 7                      (4) 4とで 7  
 (5) 6とで 7                      (6) 2とで 7




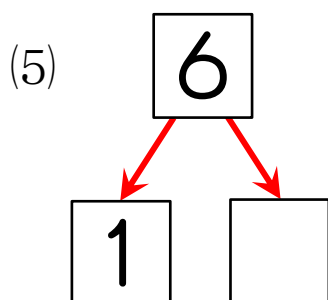
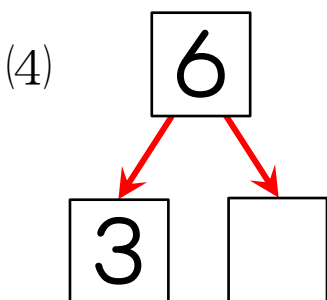
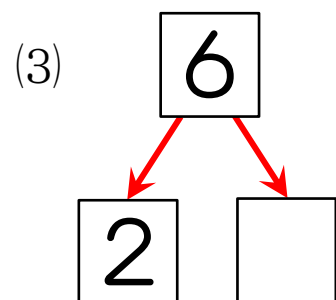
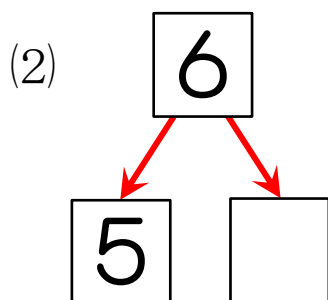
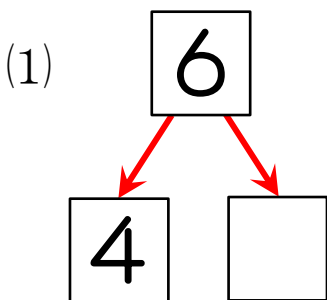
1 6は いくつと いくつに わけられますか。○を かきましょう。(4点×5)



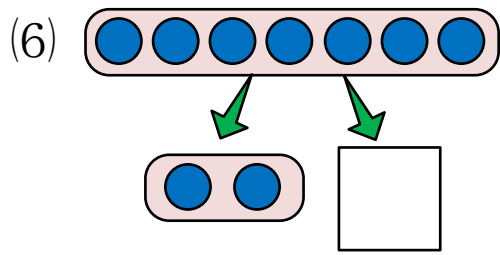
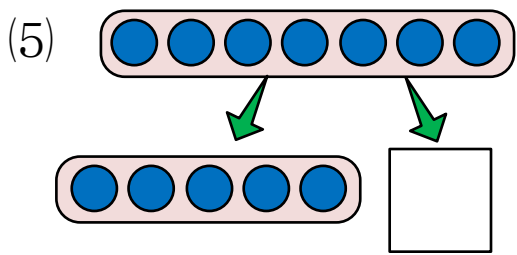
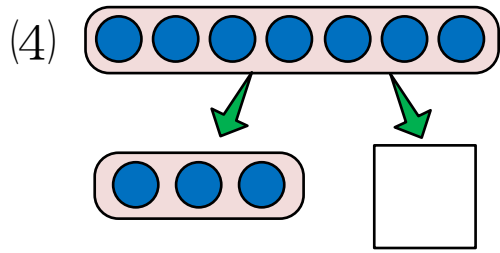
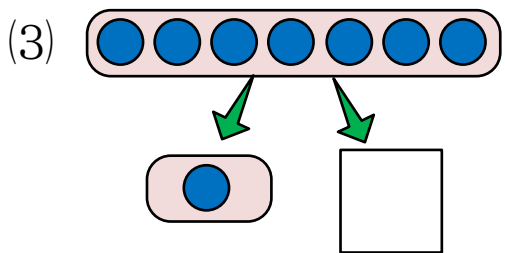
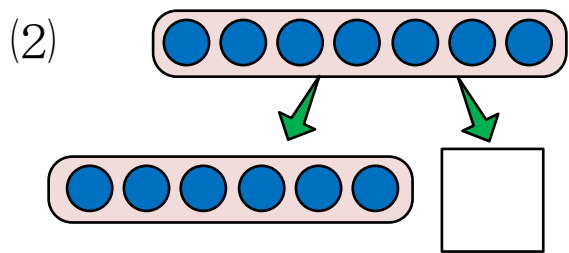
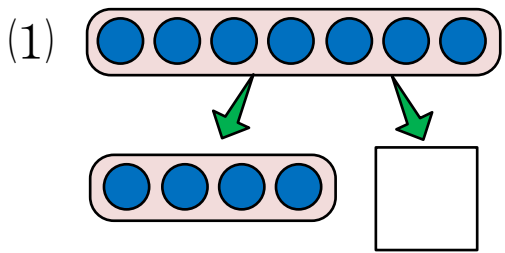
6この みかんは、  
いくつと いくつに  
わけられますか？



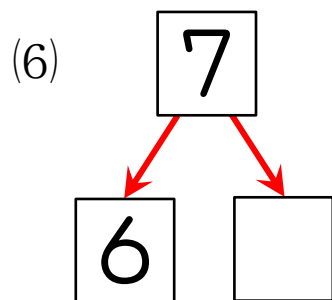
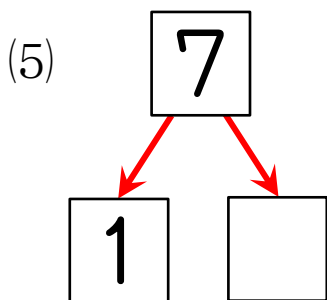
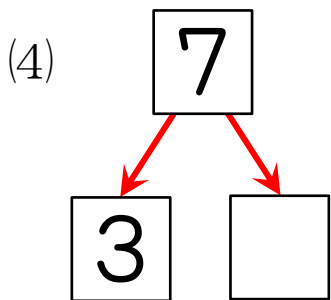
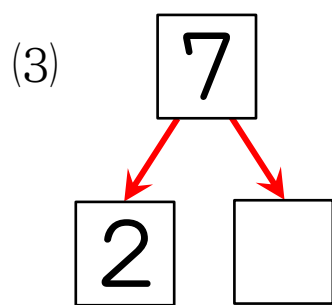
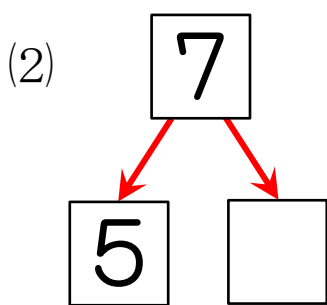
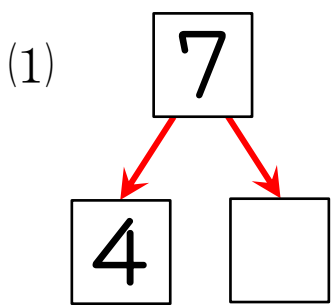
2 6は、いくつと いくつに わけられますか。□に かずを かきましょう。(4点×5)



3 7は いくつと いくつに わけられますか。□に かずを かきましょう。  
 (5点×6)




4 7は, いくつと いくつに わけられますか。□に かずを かきましょう。  
 (5点×6)







1 あと いくつで 8に なりますか。いろを ぬって こたえましょう。(3点×7)



と



と



と



と



と



と



と



2  に あてはまる かずを かきましょう。

(3点×7)

(1) 5と で 8

(2) 3と で 8

(3) 1と で 8

(4) 7と で 8

(5) 4と で 8

(6) 2と で 8

(7) 6と で 8

3 あと いくつで 8に なりますか。

(5点)



( )

**4** あと いくつで 9に なりますか。いろを ぬって こたえましょう。(3点×8)

(1)  (2)   
 と                        と

(3)  (4)   
 と                        と


(5)  (6)   
 と                        と

(7)  (8)   
 と                        と

**5**  に あてはまる かずを かきましょう。(3点×8)


- (1) 5とで 9                      (2) 1とで 9  
(3) 8とで 9                      (4) 7とで 9  
(5) 2とで 9                      (6) 3とで 9  
(7) 6とで 9                      (8) 4とで 9

**6** あと いくつで 9に なりますか。(5点)






**1** 8は いくつと いくつに わけられますか。○を かきましょう。(3点×7)

(1) (2) (3)   
 (4) (5) (6)   
 (7) 

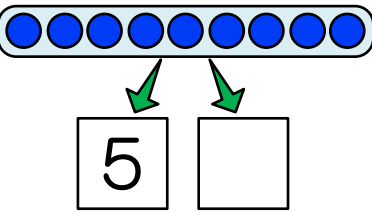
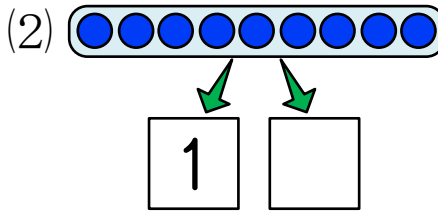
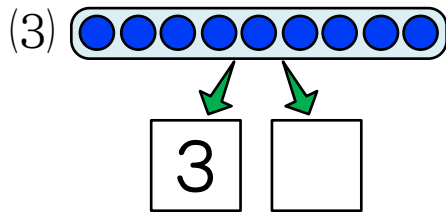
**2** 8は、いくつと いくつに わけられますか。□に かずを かきましょう。(3点×7)

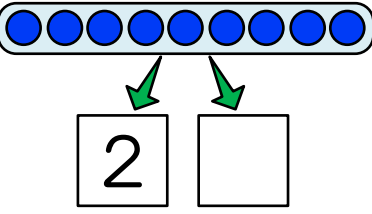
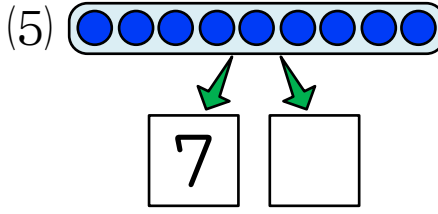
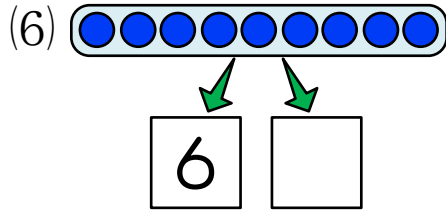
(1) (2) (3) (4)   
 (5) (6) (7)

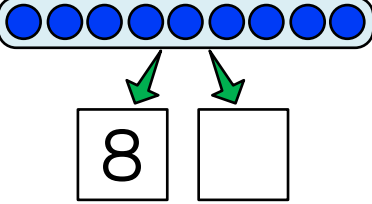
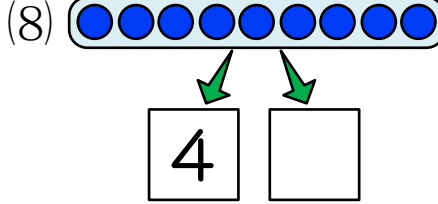
**3** ひよこが 8わ います。なんわ かくれていますか。(5点)

 ( )

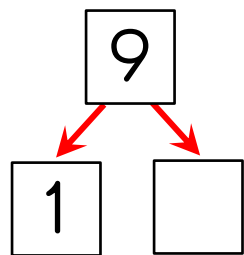
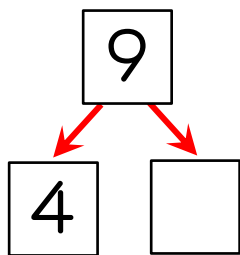
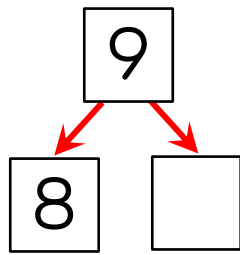
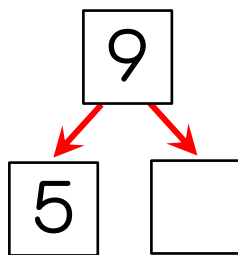
4 9は いくつと いくつに わけられますか。□に かずを かきましょう。  
 (3点×8)

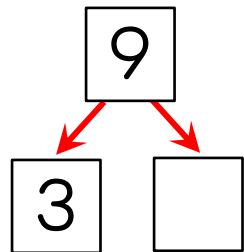
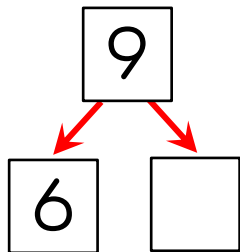
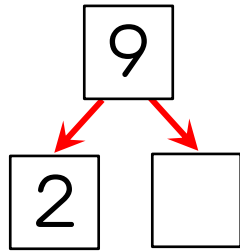
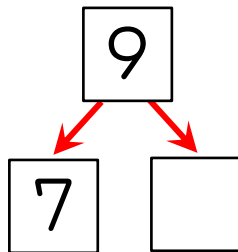
(1)  (2)  (3) 

(4)  (5)  (6) 

(7)  (8) 

5 9は、いくつと いくつに わけられますか。 □に かずを かきましょう。  
 (3点×8)

(1)  (2)  (3)  (4) 

(5)  (6)  (7)  (8) 

6 ぼおるが 9こ あります。はこの なかに なんこ ありますか。 (5点)





( )








**1** ぼおるが 10こ あります。あかの ぼおると あおの ぼおるは、なんこと なんこですか。あおの ぼおるに いろを ぬって こたえましょう。(3点×9)


(1)   
10 は 7 と 3


(2)   
10 は  と


(3)   
10 は  と


(4)   
10 は  と

(5)   
10 は  と

(6)   
10 は  と

(7)   
10 は  と

(8)   
10 は  と

(9)   
10 は  と

**2**  に あてはまる かずを かきましょう。

(3点×8)

(1) 5と  で 10

(2) 3と  で 10

(3) 2と  で 10

(4) 6と  で 10

(5) 8と  で 10

(6) 1と  で 10

(7) 4と  で 10


(8) 7と  で 10

3 10は、いくつと いくつに わけられますか。□に かずを かきましょう。  
(3点×8)

(1)  $\begin{array}{c} \boxed{10} \\ \swarrow \searrow \\ \boxed{9} \quad \boxed{\phantom{0}} \end{array}$     (2)  $\begin{array}{c} \boxed{10} \\ \swarrow \searrow \\ \boxed{5} \quad \boxed{\phantom{0}} \end{array}$     (3)  $\begin{array}{c} \boxed{10} \\ \swarrow \searrow \\ \boxed{1} \quad \boxed{\phantom{0}} \end{array}$     (4)  $\begin{array}{c} \boxed{10} \\ \swarrow \searrow \\ \boxed{3} \quad \boxed{\phantom{0}} \end{array}$

(5)  $\begin{array}{c} \boxed{10} \\ \swarrow \searrow \\ \boxed{7} \quad \boxed{\phantom{0}} \end{array}$     (6)  $\begin{array}{c} \boxed{10} \\ \swarrow \searrow \\ \boxed{4} \quad \boxed{\phantom{0}} \end{array}$     (7)  $\begin{array}{c} \boxed{10} \\ \swarrow \searrow \\ \boxed{2} \quad \boxed{\phantom{0}} \end{array}$     (8)  $\begin{array}{c} \boxed{10} \\ \swarrow \searrow \\ \boxed{6} \quad \boxed{\phantom{0}} \end{array}$

4 いくつ ありますか。□にかずを かきましょう。  
(7点)




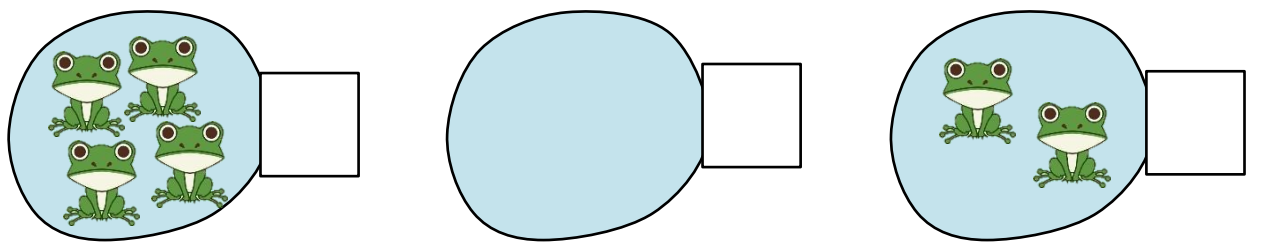
□    □    □    れい □     $\begin{array}{c} \boxed{0} \\ \boxed{0} \\ \boxed{\phantom{0}} \end{array}$

0は、ひとつも ないことを あらわす かずです。



5 いくつ ありますか。□にかずを かきましょう。  
(3点×6)









1 いくつと いくつですか。

(3点×10)

◎ 6 

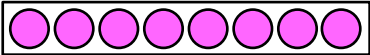
① 6は 3と

② 6は 1と

◎ 7 


① 7は 5と

② 7は 3と

◎ 8 

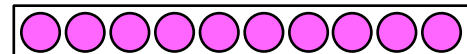
① 8は 2と

② 8は 4と

◎ 9 

① 9は 4と

② 9は 7と

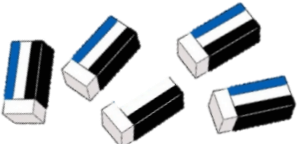
◎ 10 

① 10は 3と

② 10は 6と

2 あと いくつで 6に なりますか。かずを かきましょう。

(5点×2)

(1)  あと  っ

(2)  あと  っ


3 あと いくつで 7に なりますか。かずを かきましょう。

(5点×2)


(1)  あと  っ

(2)  あと  っ

**4** あと いくつで 8に なりますか。かずを かきましょう。(5点×2)



**5** あと いくつで 9に なりますか。かずを かきましょう。(5点×2)



**6** 10に なるように, うえと したの かずを —で おすびましょう。(3点×5)

6

1

5

3

8

5

4

9

2

7

**7** はとや きんぎょの かずを,  に すうじで かきましょう (3点×5)

